




보약게임
보약처방전

보약처방전 <학생용 모형시계>

시침과 분침이 함께 돌아가는 **Big Time™ Mini Clocks**
학생용 모형시계 소그룹세트



※ 본 워크지에 사용된 상품사진과 콘텐츠는 저작권법 98조에 의거해 보호를 받고 있습니다.



생각에 투자하세요!



한국청소년창의체험문화협회

KOREA ADOLESCENT CREATIVE EXPERIENCE ASSOCIATION

kacea.co.kr

시침과 분침이 함께 돌아가는 **Big Time™ Mini Clocks**
학생용 모형시계 소그룹세트

· LR 2202



· LR 2202-1



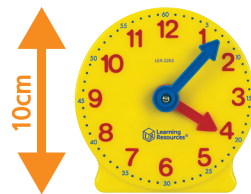
구성

· LR 2202 - 학생용 모형시계 6개 · LR 2202-1 - 학생용 모형시계 1개

분침과 시침이 함께 돌려지는 구성으로 어린이가 시, 분을 학습하는데 효과적인 시계교구

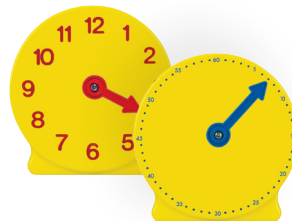
· **10cm**

아이 손에 쏙! 손에 들고 돌립니다.



· **분침회전/시침회전**

시침과 분침이 함께!
따로따로 움직이지 않고 한 번에 움직입니다.



· **그룹활동**

소그룹(3~6명) 활동에 적합합니다.



< 시간 읽기 1 > - 정각 (1시간 단위)

모형 시계를 다음과 같은 시간으로 맞춘 뒤, 시간을 읽어보세요.

<예시>



7 시



시



시



시



시



시



시



시



시



시

< 시계 맞추기 1 > - 정각 (1시간 단위)

다음 예시와 같이 모형시계를 움직여 시간을 표시해보세요. (워크북에는 직접 시침/분침을 그려보세요.)

<예시>

6:00



5:00



11:00



12:00



9:00



4:00



3:00



6:00



1:00



10:00



<시간 읽기 2> - 30분 단위

모형 시계를 다음과 같은 시간으로 맞춘 뒤, 시간을 읽어보세요.

<예시>



9 시 30 분



시 분



시 분



시 분



시 분



시 분



시 분



시 분



시 분



시 분

< 시계 맞추기 2 > - 30분 단위

다음 예시와 같이 모형시계를 움직여 시간을 표시해보세요. (워크북에는 직접 시침/분침을 그려보세요.)

<예시>

8:30



11:30



10:00



12:00



3:00



1:30



11:00



6:30



2:30



4:00

<시간 읽기 3> - 5분 단위

모형 시계를 다음과 같은 시간으로 맞춘 뒤, 시간을 읽어보세요.

<예시>



7 시 25 분



시 분



시 분



시 분



시 분



시 분



시 분



시 분



시 분



시 분

< 시계 맞추기 3 > - 5분 단위

다음 예시와 같이 모형시계를 움직여 시간을 표시해보세요. (워크북에는 직접 시침/분침을 그려보세요.)

<예시>

3:40



4:35



1:50



6:10



7:05



10:25



11:20



3:15



8:45



12:55

<시간 읽기 4> - 1분 단위

모형 시계를 다음과 같은 시간으로 맞춘 뒤, 시간을 읽어보세요.

<예시>



시 분



시 분



시 분



시 분



시 분

<시계 맞추기 4> - 1분 단위

다음 예시와 같이 모형시계를 움직여 시간을 표시해보세요. (워크북에는 직접 시침/분침을 그려보세요.)

<예시>

2:52



10:29



8:40



10:17



11:49



5:55



12:40



6:27



3:52




6:08



<시간 맞추기> 몇 시간 후 / 몇 시간 전 시간 맞추기

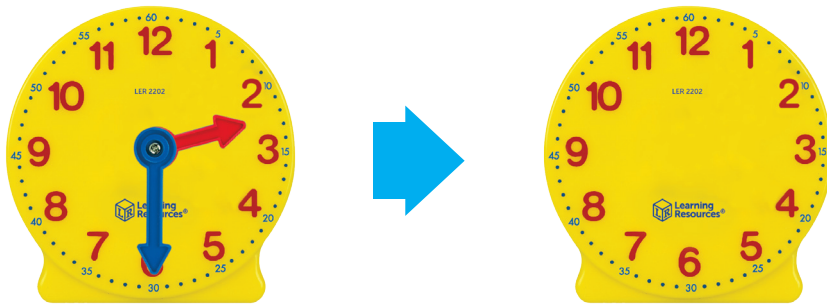
다음 예시와 같이 모형시계를 움직여 시간을 표시해보세요.(워크북에는 직접 시침/분침을 그려보세요.)

<예시>



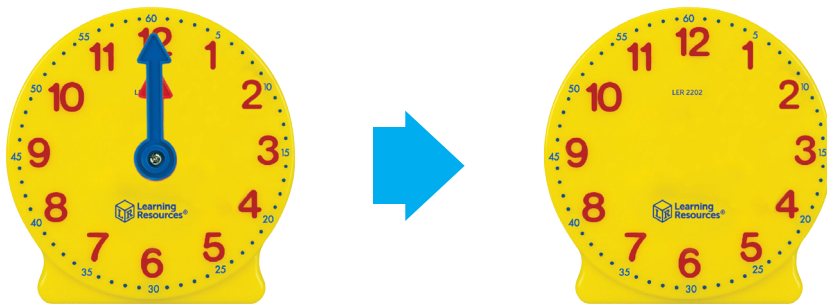
5시간 후는 몇 시입니까?

시 분



1시간 후는 몇 시입니까?

시 분



1시간 30분 전는 몇 시입니까?

시 분



2시간 30분 후는 몇 시입니까?

시 분



2시간 전은 몇 시입니까?

시 분



3시간 후는 몇 시입니까?

시 분



4시간 30분 전는 몇 시입니까?

시 분

